

STOŽEC

1. Na povezavi si poglej lastnosti stožca in preberi besedilo pod sliko.

<https://eucbeniki.sio.si/mat9/920/index2.html>.

PRERIŠI STOŽEC IN ZAPIŠI NJEGOVE ELEMENTE.



Pomagaj si tudi z učbenikom na strani 165.

2. **ZAPIŠI:** **Stožec** je okroglo geometrijsko telo z dvema mejnima ploskvama. **Osnovna ploskev** stožca je krog. Ukrivljena mejna ploskev je **plašč** stožca.


3. **IZDELAJ DVA MODELA STOŽCA in pošlji fotografijo:**

- a. S šestilom na papir nariši tri kroge s polmeri 6 cm, 4 cm in 2 cm in jih izreži.
- b. Največjemu krogu izreži izsek s središčnim kotom 120° . (glej desno sliko)

- c. Oba krožna izseka zlepi v krivi ploskvi.



- d. Prilepi še osnovni ploskvi, da dobiš dva stožca.



- e. FOTOGRAFIRAJ JU TAKO, DA SE VIDITA OSNOVNI PLOSKVI in pošlji na:

9.A – frspavel@gmail.com

9.B – mija.kosir@gmail.com