



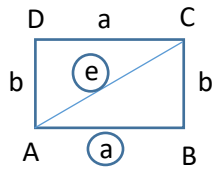
9. Načrtaj pravokotnik ABCD.

a) Pravokotnik ABCD

$$a = 3 \text{ cm}$$

$$e = 5 \text{ cm}$$

Skica



1. KORAK




2. KORAK:

V šestilo odmeri $e = 5 \text{ cm}$,
zapiči v točko A, nariši lok.



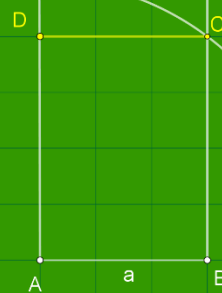
3. KORAK:

Nariši pravokotnici skozi
točki A in B.



4. KORAK:

Nariši točko C in skozi njo
pravokotnico na daljico BC.
Dobiš točko D.



5. KORAK: Vse označi !

